

---

**QID : 201** - In the following question, select the related word from the given alternatives.

**Book : Pages :: Ladder : ?**

निम्नलिखित प्रश्न में दिए गए विकल्पों में से संबंधित शब्द को चुनिए।

**पुस्तक : पृष्ठ :: सीढ़ी : ?**

**Options:**

- 1) Steps  
कदम
- 2) Walking  
चलना
- 3) Parts  
भाग
- 4) Levels  
स्तर

**Correct Answer:** Steps

कदम

**Candidate Answer:** Parts

भाग

**QID : 202** - In the following question, select the related word from the given alternatives.

**Binocular : View :: ? : ?**

निम्नलिखित प्रश्न में दिए गए विकल्पों में से संबंधित शब्द को चुनिए।

**दूरबीन : दर्शन :: ? : ?**

**Options:**

- 1) Shovel : Scoop  
करछा : निकालना
- 2) Spanner : Guard  
नापनेवाला : रक्षक
- 3) Tongs : Bore  
चिमटा : छिद्र
- 4) Chisel : Grind  
छेनी : पीसना

**Correct Answer:** Shovel : Scoop

करछा : निकालना

**Candidate Answer:** Shovel : Scoop

करछा : निकालना

**QID : 203** - In the following question, select the related letters from the given alternatives.

**ABC : FFF :: MDP : ?**

निम्नलिखित प्रश्न में दिए गए विकल्पों में से संबंधित अक्षरों को चुनिए।

**ABC : FFF :: MDP : ?**

**Options:**

- 1) RRR
- 2) HHH
- 3) RHS
- 4) RSH

**Correct Answer:** RHS

**Candidate Answer:** RHS

**QID : 204** - In the following question, select the related letters from the given alternatives.

**JMPQ : HKNO :: LCOP : ?**

निम्नलिखित प्रश्न में दिए गए विकल्पों में से संबंधित अक्षरों को चुनिए।

**JMPQ : HKNO :: LCOP : ?**

**Options:**

1) JANM

2) JAMN

3) MAJP

4) JANN

**Correct Answer:** JAMN

**Candidate Answer:** JAMN

**QID : 205** - In the following question, select the related number from the given alternatives.

**11 : 1331 :: 12 : ?**

निम्नलिखित प्रश्न में दिए गए विकल्पों में से संबंधित संख्या को चुनिए।

**11 : 1331 :: 12 : ?**

**Options:**

1) 1728

2) 728

3) 1528

4) 1628

**Correct Answer:** 1728

**Candidate Answer:** 1728

**QID : 206** - In the following question, select the related number from the given alternatives.

**6 : 215 :: 8 : ?**

निम्नलिखित प्रश्न में दिए गए विकल्पों में से संबंधित संख्या को चुनिए।

**6 : 215 :: 8 : ?**

**Options:**

1) 510

2) 511

3) 512

4) 520

**Correct Answer:** 511

**Candidate Answer:** 511

**QID : 207** - In the following question, select the odd word pair from the given alternatives.

निम्नलिखित प्रश्न में दिए गए विकल्पों में से विषम शब्द युग्म को चुनिए।

**Options:**

1) Dog : Puppy

कुत्ता : पिल्ला

2) Horse : Mare

घोड़ा : घोड़ी

3) Sheep : Lamb

भेड़ : मेमना

4) Cow : Calf

गाय : बछड़ा

**Correct Answer:** Horse : Mare

घोड़ा : घोड़ी

**Candidate Answer:** Sheep : Lamb

भेड़ : मेमना

**QID : 208** - In the following question, select the odd word pair from the given alternatives.

निम्नलिखित प्रश्न में दिए गए विकल्पों में से विषम शब्द युग्म को चुनिए।

**Options:**

1) Quadrilateral : Four

चतुर्भुज : चार

2) Octagon : Eight

अष्टभुज : आठ

3) Decagon : Ten

दशभुज : दस

4) Heptagon : Six

सप्तभुज : छः

**Correct Answer:** Heptagon : Six

सप्तभुज : छः

**Candidate Answer:** Heptagon : Six

सप्तभुज : छः

**QID : 209** - In the following question, select the odd letters from the given alternatives.

निम्नलिखित प्रश्न में दिए गए विकल्पों में से विषम अक्षरों को चुनिए।

**Options:**

1) SZ

2) BJ

3) PW

4) MT

**Correct Answer:** BJ

**Candidate Answer:** BJ

**QID : 210** - In the following question, select the odd letters from the given alternatives.

निम्नलिखित प्रश्न में दिए गए विकल्पों में से विषम अक्षरों को चुनिए।

**Options:**

1) BY

2) DW

3) FT

4) KP

**Correct Answer:** FT

**Candidate Answer:** FT

**QID : 211** - In the following question, select the odd number pair from the given alternatives.

निम्नलिखित प्रश्न में दिए गए विकल्पों में से विषम संख्या युग्म को चुनिए।

**Options:**

1) 11 – 44

2) 8 – 34

3) 6 – 18

4) 12 – 72

**Correct Answer:** 8 – 34

**Candidate Answer:** 11 – 44

**QID : 212** - In the following question, select the odd number pair from the given alternatives.

निम्नलिखित प्रश्न में दिए गए विकल्पों में से विषम संख्या युग्म को चुनिए।

**Options:**

1) 72 – 92

2) 33 – 53

3) 89 – 129

4) 60 – 80

**Correct Answer:** 89 – 129

**Candidate Answer:** 89 – 129

**QID : 213** - Arrange the given words in the sequence in which they occur in the dictionary.

1. Pinned

2. Provoke

3. Pasture

4. Pale

5. Pond

निम्नलिखित शब्दों को शब्दकोश में आने वाले क्रम के अनुसार लिखें।

1. Pinned

2. Provoke

3. Pasture

4. Pale

5. Pond

**Options:**

1) 41352

2) 43152

3) 43512

4) 43215

**Correct Answer:** 43152

**Candidate Answer:** 43152

**QID : 214** - Arrange the given words in the sequence in which they occur in the dictionary.

1. Pebble
2. Pager
3. Protect
4. Pest
5. Pray

निम्नलिखित शब्दों को शब्दकोश में आने वाले क्रम के अनुसार लिखें।

1. Pebble
2. Pager
3. Protect
4. Pest
5. Pray

**Options:**

1) 21453

2) 24153

3) 25143

4) 25413

**Correct Answer:** 21453

**Candidate Answer:** 21453

**QID : 215** - A series is given with one term missing. Select the correct alternative from the given ones that will complete the series.

**MP, OR, QT, SV, ?**

एक अनुक्रम दिया गया है, जिसमें से एक पद लुप्त है। दिए गए विकल्पों में से वह सही विकल्प चुनिए, जो अनुक्रम को पूरा करे।

**MP, OR, QT, SV, ?**

**Options:**

1) UX

2) TW

3) TU

4) XU

**Correct Answer:** UX

**Candidate Answer:** UX

**QID : 216** - A series is given with one term missing. Select the correct alternative from the given ones that will complete the series.

**AAZ, CDX, EGV, ?**

एक अनुक्रम दिया गया है, जिसमें से एक पद लुप्त है। दिए गए विकल्पों में से वह सही विकल्प चुनिए, जो अनुक्रम को पूरा करे।

**AAZ, CDX, EGV, ?**

**Options:**

1) FGT

2) GIT

3) GHT

4) GJT

**Correct Answer:** GJT

**Candidate Answer:** GJT

**QID : 217** - In the following question, select the missing number from the given series.

**2, 3, 8, 27, ?**

निम्नलिखित प्रश्न में दिए गए विकल्पों में से लुप्त अंक ज्ञात कीजिए।

**2, 3, 8, 27, ?**

**Options:**

1) 76

2) 84

3) 112

4) 124

**Correct Answer:** 112

**Candidate Answer:** [ NOT ANSWERED ]

**QID : 218** - In the following question, select the missing number from the given series.

**3, 17, 73, 297, ?**

निम्नलिखित प्रश्न में दिए गए विकल्पों में से लुप्त अंक ज्ञात कीजिए।

**3, 17, 73, 297, ?**

**Options:**

1) 1087

2) 1193

3) 2117

4) 2197

**Correct Answer:** 1193

**Candidate Answer:** 1193

**QID : 219** - In a class of 52 children, Bilal's rank is 11<sup>th</sup> from the bottom. Salman is 9 ranks above Bilal. What is Salman's rank from the top?

52 बच्चों की एक कक्षा में, बिलाल का स्थान नीचे से 11 वाँ है। सलमान, बिलाल से 9 स्थान ऊपर है। ऊपर से सलमान का क्या स्थान है?

**Options:**

1) 37<sup>th</sup>

37 वाँ

2) 33<sup>rd</sup>

33 वाँ

3) 38<sup>th</sup>

38 वाँ

4) 35<sup>th</sup>

35 वाँ

**Correct Answer:** 33<sup>rd</sup>

33 वाँ

**Candidate Answer:** 33<sup>rd</sup>

33 वाँ

**QID : 220** - The ratio of present ages of Kamal and Vikram is 9 : 4. If the age of Kamal ten years ago was 44 years, then what is the present age (in years) of Vikram?

कमल तथा विक्रम की वर्तमान आयु का अनुपात 9 : 4 है। यदि दस वर्ष पूर्व कमल की आयु 44 वर्ष होगी, तो विक्रम की वर्तमान आयु (वर्षों में) क्या है?

**Options:**

1) 24

2) 28

3) 20

4) 22

**Correct Answer:** 24

**Candidate Answer:** 24

**QID : 221** - Vikram remembers that his son Vihan's birthday is after 25<sup>th</sup> December. Vikram's wife remember that Vihan's birthday is after 23<sup>rd</sup> December but before 27<sup>th</sup> December. On which date of December is Vihan's birthday?

विक्रम को याद है की उसके पुत्र विहान का जन्मदिन 25 दिसम्बर के बाद है। विक्रम की पत्नी को याद है की विहान का जन्मदिन 23 दिसम्बर के बाद लेकिन 27 दिसम्बर से पहले है। विहान का जन्मदिन दिसम्बर की कौन-सी तारीख को है?

**Options:**

1) 23

2) 24

3) 25

4) 26

**Correct Answer:** 26

**Candidate Answer:** 26

**QID : 222** - In the following question, select the word which cannot be formed using the letters of the given word.

**CORPORATION**

निम्नलिखित विकल्पों में से वह शब्द चुनिए जो दिए गए शब्द के अक्षरों का प्रयोग करके नहीं बनाया जा सकता।

**CORPORATION**

**Options:**

1) RATIO

2) REPORT

3) PORT

4) TORN

**Correct Answer:** REPORT

**Candidate Answer:** REPORT

**QID : 223** - In the following question, select the word which cannot be formed using the letters of the given word.

**PARTICULARLY**

निम्नलिखित विकल्पों में से वह शब्द चुनिए जो दिए गए शब्द के अक्षरों का प्रयोग करके नहीं बनाया जा सकता।

**PARTICULARLY**

**Options:**

1) RALLY

2) TALCUM

3) CULT

4) PART

**Correct Answer:** TALCUM

**Candidate Answer:** TALCUM

**QID : 224** - In a certain code language, "TAIL" is written as "42" and "BANT" is written as "37". How is "GODY" written in that code language?

एक विशिष्ट कोड भाषा में, "TAIL" को "42" लिखा जाता है तथा "BANT" को "37" लिखा जाता है। इस कोड भाषा में "GODY" को किस प्रकार लिखा जाएगा?

**Options:**

1) 79

2) 51

3) 68

4) 73

**Correct Answer:** 51

**Candidate Answer:** 51

**QID : 225** - In a certain code language, "CURING" is written as "XFIRMT" and "TRACED" is written as "GIZXVW". How is "LATELY" written in that code language?

एक विशिष्ट कोड भाषा में, "CURING" को "XFIRMT" लिखा जाता है तथा "TRACED" को "GIZXVW" लिखा जाता है। इस कोड भाषा में "LATELY" को किस प्रकार लिखा जाएगा?

**Options:**

1) QZXHQD

2) RXGVRC

3) OZGVOB

4) NXHVNB

**Correct Answer:** OZGVOB

**Candidate Answer:** OZGVOB

**QID : 226** - If "@" denotes "multiplied by", "\$" denotes "subtracted from", "%" denotes "added to" and "&" denotes "divided by", then which of the following equation must be true?

यदि "@" का अर्थ "गुणा" है, "\$" का अर्थ "घटाव" है, "%" का अर्थ "जोड़" है तथा "&" का अर्थ "भाग" है, तो निम्नलिखित में से कौन सा समीकरण सही है?

**Options:**

1)  $7 \% 9 \& 3 \$ 5 = 4$

2)  $4 \% 3 @ 6 \$ 9 = 12$

3)  $3 @ 9 \% 6 \& 2 = 30$

4)  $6 \% 9 @ 2 \$ 7 = 16$

**Correct Answer:**  $3 @ 9 \% 6 \& 2 = 30$

**Candidate Answer:**  $3 @ 9 \% 6 \& 2 = 30$

**QID : 227** - In the following question, correct the equation by interchanging two numbers.

$$3 - 4 + 12 \times 6 \div 8 = 28$$

निम्नलिखित प्रश्न में, किन्हीं दो संख्याओं को आपस में परस्पर बदलकर दिए गए समीकरण को सही कीजिए।

$$3 - 4 + 12 \times 6 \div 8 = 28$$

**Options:**

1) 3 and 4

3 तथा 4

2) 4 and 8

4 तथा 8

3) 3 and 8

3 तथा 8

4) 4 and 6

4 तथा 6

**Correct Answer:** 3 and 8

3 तथा 8

**Candidate Answer:** 3 and 8

3 तथा 8

**QID : 228** - If  $4^2 \theta 2 \alpha 16 = 146$  and  $3^2 \theta 5 \alpha 18 = 77$ , then  $4^2 \theta 4 \alpha 39 = ?$

यदि  $4^2 \theta 2 \alpha 16 = 146$  तथा  $3^2 \theta 5 \alpha 18 = 77$  हो, तो  $4^2 \theta 4 \alpha 39 = ?$

**Options:**

1) 108

2) 125

3) 203

4) 184

**Correct Answer:** 125

Candidate Answer: [ NOT ANSWERED ]

QID : 229 - If  $6A7B3 = 60$  and  $11A9B6 = 165$ , then  $10A11B5 = ?$

यदि  $6A7B3 = 60$  तथा  $11A9B6 = 165$  हो, तो  $10A11B5 = ?$

Options:

- 1) 105
- 2) 160
- 3) 165
- 4) 180

Correct Answer: 160

Candidate Answer: 160

QID : 230 -

In the following question, select the number which can be placed at the sign of question mark (?) from the given alternatives.

निम्नलिखित प्रश्न में दिए गए विकल्पों में से प्रश्न चिन्ह (?) के स्थान पर आने वाली संख्या को चुनिए।

8	24	12	36	14	42
216	72	324	108	?	126

Options:

- 1) 178
- 2) 252
- 3) 378
- 4) 630

Correct Answer: 378

Candidate Answer: 378

QID : 231 -

In the following question, select the number which can be placed at the sign of question mark (?) from the given alternatives.

निम्नलिखित प्रश्न में दिए गए विकल्पों में से प्रश्न चिन्ह (?) के स्थान पर आने वाली संख्या को चुनिए।

3	4	2
6	15	7
1	19	5
4	2	9

Options:

- 1) 16
- 2) 17
- 3) 18
- 4) 19

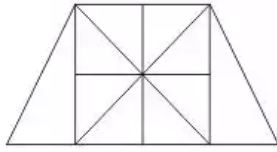
Correct Answer: 16

Candidate Answer: [ NOT ANSWERED ]

QID : 232 -

How many triangles are there in the given figure?

दी गई आकृति में कितने त्रिभुज हैं?



Options:

- 1) 16
- 2) 18
- 3) 20
- 4) 24

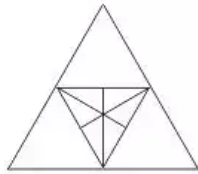
Correct Answer: 20

Candidate Answer: 18

QID : 233 -

How many triangles are there in the given figure?

दी गई आकृति में कितने त्रिभुज हैं?



Options:

- 1) 16
- 2) 18
- 3) 19
- 4) 20

Correct Answer: 20

Candidate Answer: 16

QID : 234 - In each of the following question below are given some statements followed by some conclusions. Taking the given statements to be true even if they seem to be at variance from commonly known facts, read all the conclusions and then decide which of the given conclusion logically follows the given statements.

Statements:

- I. All cups are plates.
- II. No plate is spoon.
- III. Some spoons are pens.

Conclusions:

- I. Some pens are cups.
- II. Some cups are spoons.
- III. No cup is spoon.
- IV. Some pens are not cups.

नीचे दिए गए प्रत्येक प्रश्न में कुछ कथन और उनके बाद उन कथनों पर आधारित कुछ निष्कर्ष दिए गए हैं, हालांकि उनमें सामान्य ज्ञात तथ्यों से भिन्नता हो सकती है। सभी निष्कर्ष पढ़ें और फिर निर्धारित करें कि दिए गए कौन से निष्कर्ष, दिए गए कथनों के आधार पर युक्तिसंगत हैं।

कथन:

- I. सभी कप प्लेटें हैं।
- II. कोई प्लेट चम्मच नहीं है।
- III. कुछ चम्मच पेन नहीं हैं।

निष्कर्ष:

- I. कुछ पेन कप हैं।
- II. कुछ कप चम्मच हैं।
- III. कोई कप चम्मच नहीं है।
- IV. कुछ पेन कप नहीं हैं।



**Options:**

- 1) Only conclusion (II) and (III) follow  
केवल निष्कर्ष (II) तथा निष्कर्ष (III) सही हैं
- 2) Only conclusion (III) and (IV) follow  
केवल निष्कर्ष (III) तथा निष्कर्ष (IV) सही हैं
- 3) Only conclusion (I) and (IV) follow  
केवल निष्कर्ष (I) तथा निष्कर्ष (IV) सही हैं
- 4) Only conclusion (I), (II) and (III) follow  
केवल निष्कर्ष (I), (II) तथा निष्कर्ष (III) सही हैं

**Correct Answer:** Only conclusion (III) and (IV) follow  
केवल निष्कर्ष (III) तथा निष्कर्ष (IV) सही हैं

**Candidate Answer:** Only conclusion (III) and (IV) follow  
केवल निष्कर्ष (III) तथा निष्कर्ष (IV) सही हैं

**QID : 235** - In each of the following question below are given some statements followed by some conclusions. Taking the given statements to be true even if they seem to be at variance from commonly known facts, read all the conclusions and then decide which of the given conclusion logically follows the given statements.

**Statements:**

- I. All pens are pencils.  
II. No pencil is eraser.  
III. Some cups are erasers.

**Conclusions:**

- I. Some cups are not pencils.  
II. Some cups are not pens.  
III. Some pencils are not cups.  
IV. No pen is eraser.

नीचे दिए गए प्रत्येक प्रश्न में कुछ कथन और उनके बाद उन कथनों पर आधारित कुछ निष्कर्ष दिए गए हैं, हालांकि उनमें सामान्य ज्ञात तथ्यों से भिन्नता हो सकती है। सभी निष्कर्ष पढ़ें और फिर निर्धारित करें कि दिए गए कौन से निष्कर्ष, दिए गए कथनों के आधार पर युक्तिसंगत हैं।

**कथन:**

- I. सभी पेन पेसिलें हैं।  
II. कोई पेसिल रबर नहीं है।  
III. कुछ कप रबर हैं।

**निष्कर्ष:**

- I. कुछ कप पेसिले नहीं हैं।  
II. कुछ कप पेन नहीं हैं।  
III. कुछ पेसिल कप नहीं हैं।  
IV. कोई पेन रबर नहीं है।

**Options:**

- 1) Only conclusion (I), (II) and (III) follow  
केवल निष्कर्ष (I), (II) तथा निष्कर्ष (III) सही हैं
- 2) Only conclusion (II) and (IV) follow  
केवल निष्कर्ष (II) तथा निष्कर्ष (IV) सही हैं
- 3) Only conclusion (I), (II) and (IV) follow  
केवल निष्कर्ष (I), (II) तथा निष्कर्ष (IV) सही हैं
- 4) All conclusions follow  
सभी निष्कर्ष सही हैं

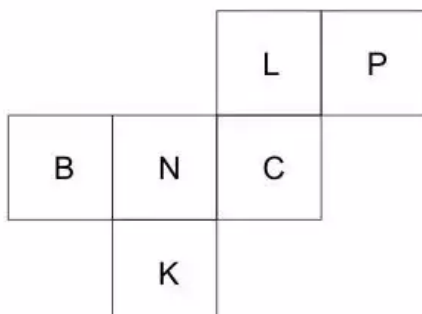
**Correct Answer:** Only conclusion (I), (II) and (IV) follow  
केवल निष्कर्ष (I), (II) तथा निष्कर्ष (IV) सही हैं

**Candidate Answer:** All conclusions follow  
सभी निष्कर्ष सही हैं

**QID : 236** -

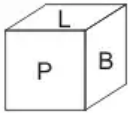
From the given options, which answer figure can be formed by folding the figure given in the question?

निम्नलिखित विकल्पों में से कौन सी उत्तर आकृति प्रश्न में दी गई आकृति को मोड़कर बनाई जा सकती है?

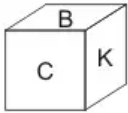


Options:

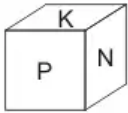
1)



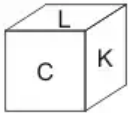
2)



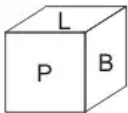
3)



4)



Correct Answer:

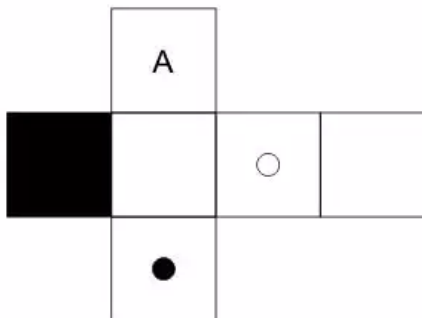


Candidate Answer: [ NOT ANSWERED ]

QID : 237 -

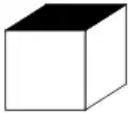
From the given options, which answer figure can be formed by folding the figure given in the question?

निम्नलिखित विकल्पों में से कौन सी आकृति प्रश्न में दी गई आकृति को मोड़कर बनाई जा सकती है?

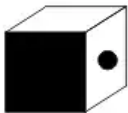


Options:

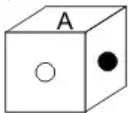
1)



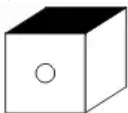
2)



3)

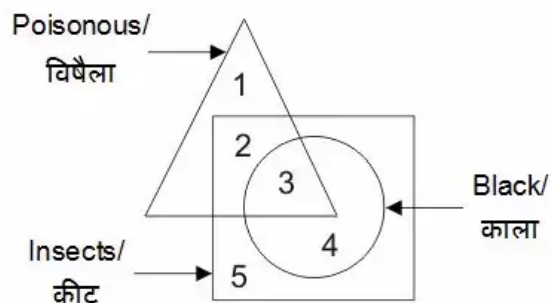


4)



In the given figure, which number represents poisonous insects which are not black?

दी गई आकृति में, कौन सा अंक विषैले कीट जो काले नहीं हैं, को दर्शाता है?



1) 2

2) 3

3) 4

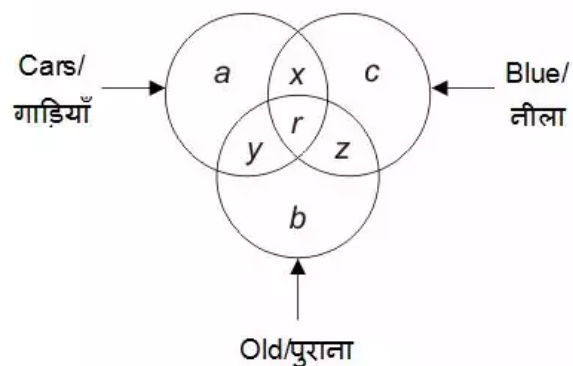
4) 5

**Correct Answer: 2**

**Candidate Answer: 2**

In the given figure, which alphabet/alphabets represent old cars?

दी गई आकृति में, कौन सा/से अक्षर पुरानी गाड़ियों को दर्शाता/दर्शाते हैं/हैं?



Options:

1) y and r

y तथा r

2) y

3) a, y and b

a, y तथा b

4) a and b

a तथा b

Correct Answer: y and r

y तथा r

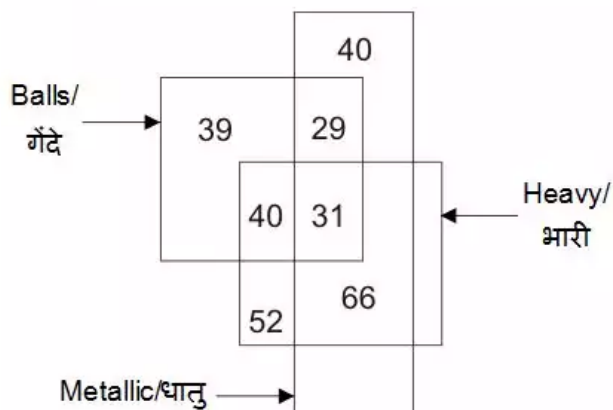
Candidate Answer: y and r

y तथा r

QID : 240 -

In the given figure, how many metallic balls are also heavy?

दी गई आकृति में, कितनी धातु की गेंदे भारी भी हैं?



Options:

1) 97

2) 71

3) 31

4) 66

Correct Answer: 31

Candidate Answer: 66

QID : 241 -

Which answer figure will complete the pattern in the question figure?

कौन सी उत्तर आकृति प्रश्न आकृति के प्रतिरूप को पूरा करेगी?



Options:

1)



2)



3)



4)



Correct Answer:



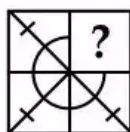
Candidate Answer:



QID : 242 -

Which answer figure will complete the pattern in the question figure?

कौन सी उत्तर आकृति प्रश्न आकृति के प्रतिरूप को पूरा करेगी?

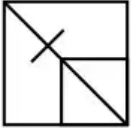


Options:

1)



2)



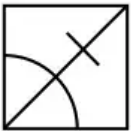
3)



4)



Correct Answer:



Candidate Answer:



QID : 243 -

From the given answer figures, select the one in which the question figure is hidden/embedded.

दी गई उत्तर आकृतियों में से उस उत्तर आकृति को चुनिए जिस में प्रश्न आकृति निहित है।



Options:

1)



2)



3)



4)



Correct Answer:



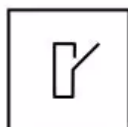
Candidate Answer:



QID : 244 -

From the given answer figures, select the one in which the question figure is hidden/embedded.

दी गई उत्तर आकृतियों में से उस उत्तर आकृति को चुनिए जिस में प्रश्न आकृति निहित है।



Options:

1)



2)



3)



4)



Correct Answer:



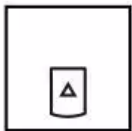
Candidate Answer:



QID : 245 -

A piece of paper is folded and punched as shown below in the question figures. From the given answer figures, indicate how it will appear when opened?

नीचे के प्रश्न आकृतियों में दिखाए अनुसार कागज को मोड़कर छेदने तथा खोलने के बाद वह किस उत्तर आकृति जैसा दिखाई देगा?





Options:

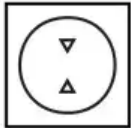
1)



2)




3)



4)



Correct Answer:



Candidate Answer:



QID : 246 -

A piece of paper is folded and punched as shown below in the question figures. From the given answer figures, indicate how it will appear when opened?

नीचे के प्रश्न आकृतियों में दिखाए अनुसार कागज को मोड़कर छेदने तथा खोलने के बाद वह किस उत्तर आकृति जैसा दिखाई देगा?




Options:

1)



2)



3)



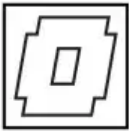
4)



Correct Answer:



Candidate Answer:



QID : 247 -

If a mirror is placed on the line AB, then which of the answer figures is the right image of the given figure?

यदि एक दर्पण को AB रेखा पर रखा जाए, तो दी गई उत्तर आकृतियों में से कौन सी आकृति प्रश्न आकृति की सही प्रतिबिम्ब होगी?



Options:

1)



2)



3)



4)



Correct Answer:



Candidate Answer:



QID : 248 -

If a mirror is placed on the line AB, then which of the answer figures is the right image of the given figure?

यदि एक दर्पण को AB रेखा पर रखा जाए, तो दी गई उत्तर आकृतियों में से कौन सी आकृति प्रश्न आकृति की सही प्रतिबिम्ब होगी?



Options:

1)



2)



3)



4)



Correct Answer:



Candidate Answer:



QID : 249 -

A word is represented by only one set of numbers as given in any one of the alternatives. The sets of numbers given in the alternatives are represented by two classes of **Matrix-I** as shown in the given two matrices. The columns and rows of **Matrix-I** are numbered from 0 to 4 and that of **Matrix-II** are numbered from 5 to 9. A letter from these matrices can be represented first by its row and next by its column, for example, 'L' can be represented by 11, 42, etc., and 'A' can be represented by 65, 96, etc. Similarly, you have to identify the set for the word "FISH".

एक शब्द केवल एक संख्या-समूह द्वारा दर्शाया गया है, जैसा कि विकल्पों में से किसी एक में दिया गया है। विकल्पों में दिए गए संख्या-समूह अक्षरों के दो वर्गों द्वारा दर्शाए गए हैं, जैसा कि दिए गए दो आव्यूहों में है। **आव्यूह-I** के स्तम्भ और पंक्ति की संख्या 0 से 4 है और **आव्यूह-II** की 5 से 9। इन आव्यूहों से एक अक्षर को पहले उसकी पंक्ति और बाद में स्तम्भ संख्या द्वारा दर्शाया जा सकता है। उदाहरण के लिए 'L' को 11, 42, आदि द्वारा दर्शाया जा सकता है तथा 'A' को 65, 96, आदि द्वारा दर्शाया जा सकता है। इसी तरह से आपको प्रश्न में दिए शब्द "FISH" के लिए समूह को पहचानना है।

**Matrix-I**  
**आव्यूह-I**

	0	1	2	3	4
0	P	I	Y	F	L
1	F	L	P	I	Y
2	I	Y	F	L	P
3	L	P	I	Y	F
4	Y	F	L	P	I

**Matrix-II**  
**आव्यूह-II**

	5	6	7	8	9
5	H	S	E	A	P
6	A	P	H	S	E
7	S	E	A	P	H
8	P	H	S	E	A
9	E	A	P	H	S

Options:

1) 34, 02, 56, 67

2) 03, 20, 69, 79

3) 22, 13, 75, 98

4) 10, 43, 99, 55

Correct Answer: 22, 13, 75, 98

Candidate Answer: 22, 13, 75, 98

QID : 250 -

A word is represented by only one set of numbers as given in any one of the alternatives. The sets of numbers given in the alternatives are represented by two classes of alphabets as shown in the given two matrices. The columns and rows of **Matrix-I** are numbered from 0 to 4 and that of **Matrix-II** are numbered from 5 to 9. A letter from these matrices can be represented first by its row and next by its column, for example, 'M' can be represented by 22, 44, etc., and 'T' can be represented by 67, 96, etc. Similarly, you have to identify the set for the word "CROPS".

एक शब्द केवल एक संख्या-समूह द्वारा दर्शाया गया है, जैसा कि विकल्पों में से किसी एक में दिया गया है। विकल्पों में दिए गए संख्या-समूह अक्षरों के दो वर्गों द्वारा दर्शाए गए हैं, जैसा कि दिए गए दो आव्यूहों में है। **आव्यूह-I** के स्तम्भ और पंक्ति की संख्या 0 से 4 है और **आव्यूह-II** की 5 से 9। इन आव्यूहों से एक अक्षर को पहले उसकी पंक्ति और बाद में स्तम्भ संख्या द्वारा दर्शाया जा सकता है। उदाहरण के लिए 'M' को 22, 44, आदि द्वारा दर्शाया जा सकता है तथा 'T' को 67, 96, आदि द्वारा दर्शाया जा सकता है। इसी तरह से आपको प्रश्न में दिए शब्द "CROPS" के लिए समूह को पहचानना है।

Matrix-I आव्यूह-I						Matrix-II आव्यूह-II					
	0	1	2	3	4		5	6	7	8	9
0	M	C	O	S	N	5	T	U	Q	P	R
1	C	N	S	M	O	6	P	R	T	U	Q
2	N	O	M	C	S	7	U	Q	P	R	T
3	S	M	N	O	C	8	Q	P	R	T	U
4	O	S	C	N	M	9	R	T	U	Q	P

Options:

1) 10, 59, 02, 65, 00

2) 23, 78, 14, 99, 30

3) 42, 95, 40, 76, 03

4) 34, 66, 33, 86, 22

Correct Answer: 23, 78, 14, 99, 30

Candidate Answer: 23, 78, 14, 99, 30

QID : 251 - Which of the following is the prime reason for inflation?

निम्नलिखित में से मुद्रास्फीति का मुख्य कारण कौन है?

Options:

1) Decrease in money supply

पूँजी पूर्ति में कमी

2) Increase in money supply

पूँजी पूर्ति में वृद्धि

3) Decrease in supply of goods

वस्तु की पूर्ति में कमी

4) Increase in government cash

सरकारी पूँजी में वृद्धि

Correct Answer: Increase in money supply

पूँजी पूर्ति में वृद्धि

Candidate Answer: Decrease in supply of goods

वस्तु की पूर्ति में कमी

QID : 252 - What is Disposable Personal Income?

वैयक्तिक प्रयोज्य आय से क्या अभिप्राय है?

Options:

1) Personal Income + Subsidies

व्यक्तिगत आय + अनुदान

2) Personal Income – Subsidies

व्यक्तिगत आय – अनुदान

3) Personal Income – Direct Taxes

व्यक्तिगत आय – प्रत्यक्ष कर

4) Personal Income – Indirect Taxes

व्यक्तिगत आय – अप्रत्यक्ष कर

**Correct Answer:** Personal Income – Direct Taxes

व्यक्तिगत आय – प्रत्यक्ष कर

**Candidate Answer:** Personal Income – Direct Taxes

व्यक्तिगत आय – प्रत्यक्ष कर

**QID : 253** - What is the full form of CRR?

सीआरआर का असंक्षिप्त रूप क्या है?

**Options:**

1) Cash Return Ratio

नकद वापसी अनुपात

2) Cash Reserve Ratio

नकद आरक्षित अनुपात

3) Cash Revenue Ratio

नकद राजस्व अनुपात

4) Cash Return Reserve

नकद वापसी आरक्षित

**Correct Answer:** Cash Reserve Ratio

नकद आरक्षित अनुपात

**Candidate Answer:** Cash Reserve Ratio

नकद आरक्षित अनुपात

**QID : 254** - Which among the following is used to measure slope of indifference curve?

निम्नलिखित में से किसका प्रयोग अपक्षपात वक्र के झुकाव को मापने के लिए किया जाता है?

**Options:**

1) Marginal Rate of Transformation

परिवर्तन की सीमांत दर

2) Marginal Rate of Substitution

प्रतिस्थापन की सीमांत दर

3) Marginal Rate of Technical Substitution

तकनीकी प्रतिस्थापन की सीमांत दर

4) None of these

इनमें से कोई नहीं

**Correct Answer:** Marginal Rate of Substitution

प्रतिस्थापन की सीमांत दर

**Candidate Answer:** Marginal Rate of Substitution

प्रतिस्थापन की सीमांत दर

**QID : 255** - 'Food For Work Programme' was introduced at time of which Five Year Plan?

निम्नलिखित में से किस पंचवर्षीय योजना के समय 'कार्य के लिए खाद्य योजना' आरंभ की गई थी?

**Options:**

1) Fifth

पाँचवी

2) Tenth

दसवीं

3) Seventh

सातवीं

4) Ninth

नौवीं

**Correct Answer:** Tenth

दसवीं

**Candidate Answer:** [ NOT ANSWERED ]

**QID : 256** - Which type of federalism is seen in India?

भारत में किस प्रकार का संघवाद देखा जाता है?

**Options:**

1) Coming together federation

साथ आकर संघ बनाना

2) Holding together federation

संघ बनाकर राज्यों का गठन करना

3) Coming together federation and Holding together federation both

साथ आकर संघ बनाना तथा संघ बनाकर राज्यों का गठन करना दोनों

4) None of these

इनमें से कोई नहीं

**Correct Answer:** Holding together federation

संघ बनाकर राज्यों का गठन करना

**Candidate Answer:** Coming together federation and Holding together federation both

साथ आकर संघ बनाना तथा संघ बनाकर राज्यों का गठन करना दोनों

QID : 257 -

Match the following.

निम्नलिखित का मिलान कीजिए।

Term / शब्द	Meaning / अर्थ
1. Executive कार्यपालिका	a. An institution empowered to administer justice and provide a mechanism for the resolution of legal disputes. एक राजनैतिक संस्था जिसके पास न्याय करने तथा कानूनी विवादों के निबटारे का अधिकार होता है।
2. Judiciary न्यायपालिका	b. An assembly of people's representatives with the power to enact laws for a country. जनप्रतिनिधियों की सभा जिसके पास देश का कानून बनाने का अधिकार होता है।
3. Legislature विधानसभा	c. A body of persons having authority to initiate major policies, make decisions and implement them on the basis of the constitution and laws of the country. व्यक्तियों का ऐसा निकाय जिसके पास देश के संविधान तथा कानून के आधार पर प्रमुख नीति बनाने, फैसले करने तथा उन्हें लागू करने का अधिकार होता है।

Options:

1) 1 - c, 2 - a, 3 - b

2) 1 - b, 2 - c, 3 - a

3) 1 - a, 2 - c, 3 - b

4) 1 - b, 2 - a, 3 - c

Correct Answer: 1 - c, 2 - a, 3 - b

Candidate Answer: 1 - c, 2 - a, 3 - b

QID : 258 - A \_\_\_\_ government rules within limits set by constitutional law and citizen right.

एक \_\_\_\_ सरकार संवैधानिक कानूनों तथा नागरिक अधिकारों द्वारा खींची निर्धारित सीमाओं के भीतर ही काम करती है।

Options:

1) Autocratic

निरंकुश

2) Democratic

लोकतांत्रिक

3) Monarchic

राजतंत्रवादी

4) Authoritarian

अधिकारवादी

Correct Answer: Democratic

लोकतांत्रिक

Candidate Answer: Democratic

लोकतांत्रिक

QID : 259 - What are the maximum number of seats fixed for Lok Sabha in India?

भारत में लोक सभा के लिए अधिकतम कितनी सीटें निर्धारित हैं?

Options:

1) 545 seats

545 सीटें

2) 552 seats

552 सीटें

3) 560 seats

560 सीटें

4) 550 seats

550 सीटें

Correct Answer: 552 seats

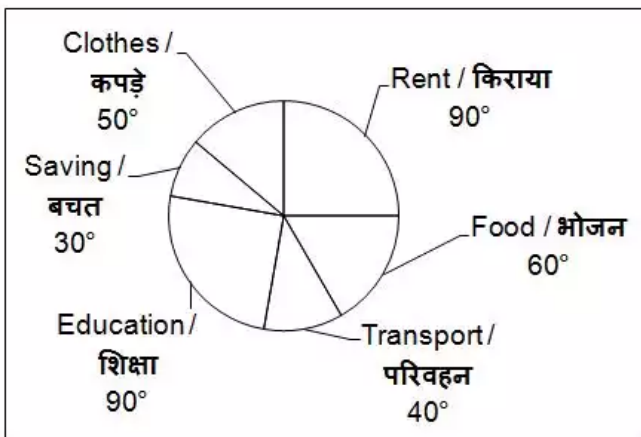
552 सीटें

Candidate Answer: 545 seats

545 सीटें

The following pie chart shows the distribution of expenses (in degrees) of a family during 2016.  
Total income of the family in 2016 = Rs 1080000

नीचे दिए गए वृत्त चित्र में वर्ष 2016 के दौरान एक परिवार के व्यय के वितरण (डिग्री में) को दर्शाया गया है। वर्ष 2016 में परिवार की कुल आय = 1080000 रु.



Their expenditure on rent is what percentage of their expenditure on Education?

किराये पर उनका व्यय, शिक्षा पर उनके व्यय का कितने प्रतिशत है?

**Options:**

- 1) 33.33
- 2) 50
- 3) 100
- 4) 90

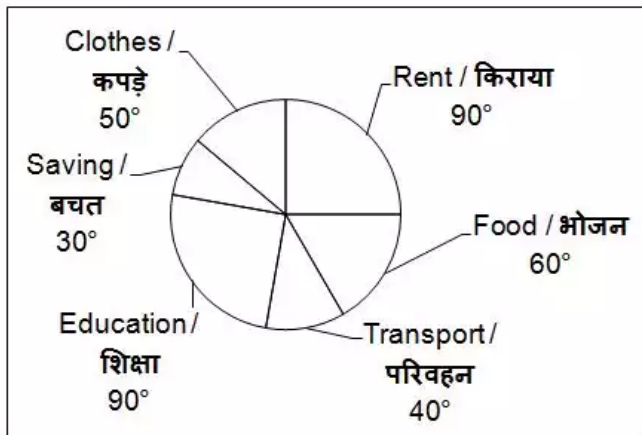
**Correct Answer:** 100

**Candidate Answer:** [ NOT ANSWERED ]



The following pie chart shows the distribution of expenses (in degrees) of a family during 2016.  
Total income of the family in 2016 = Rs 1080000

नीचे दिए गए वृत्त चित्र में वर्ष 2016 के दौरान एक परिवार के व्यय के वितरण (डिग्री में) को दर्शाया गया है। वर्ष 2016 में परिवार की कुल आय = 1080000 रु.



What is the total expenditure (in Rs) on Rent, Food and Transport together?

किराये, भोजन तथा परिवहन पर मिलाकर कुल कितना व्यय हुआ?

**Options:**

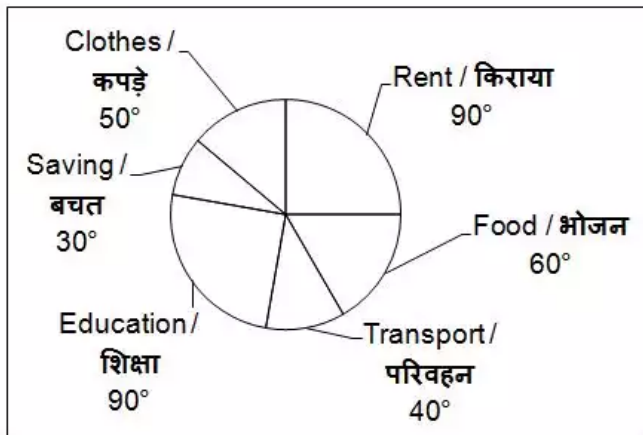
- 1) 450000
- 2) 390000
- 3) 570000
- 4) 500000

**Correct Answer:** 570000

**Candidate Answer:** [ NOT ANSWERED ]

The following pie chart shows the distribution of expenses (in degrees) of a family during 2016.  
Total income of the family in 2016 = Rs 1080000

नीचे दिए गए वृत्त चित्र में वर्ष 2016 के दौरान एक परिवार के व्यय के वितरण (डिग्री में) को दर्शाया गया है। वर्ष 2016 में परिवार की कुल आय = 1080000 रु.



What will be the average (in Rs) of total income spent by the family on Education, Savings and Rent?

शिक्षा, बचत तथा किराये पर किए गए कुल व्यय का औसत (रु. में) क्या होगा?

**Options:**

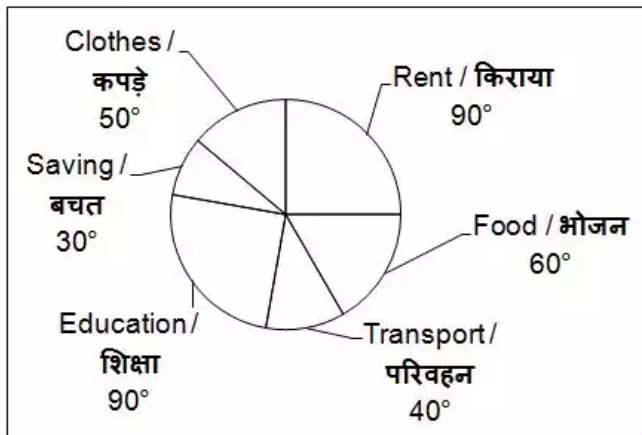
- 1) 220000
- 2) 215000
- 3) 205000
- 4) 210000

**Correct Answer:** 210000

**Candidate Answer:** [ NOT ANSWERED ]

The following pie chart shows the distribution of expenses (in degrees) of a family during 2016.  
Total income of the family in 2016 = Rs 1080000

नीचे दिए गए वृत्त चित्र में वर्ष 2016 के दौरान एक परिवार के व्यय के वितरण (डिग्री में) को दर्शाया गया है। वर्ष 2016 में परिवार की कुल आय = 1080000 रु.



Income of the family in the year 2015 was 20% less than that in the year 2016 and the ratio of their savings in 2015 and 2016 is 2 : 5. Approximately what percentage they saved in the year 2015?

परिवार की आय वर्ष 2015 में वर्ष 2016 की आय से 20% कम थी और वर्ष 2015 तथा वर्ष 2016 में उनकी बचत का अनुपात 2 : 5 है। वर्ष 2015 में उन्होंने अपनी आय का लगभग कितने प्रतिशत बचत किया था?

Options:

- 1) 6.17
- 2) 4.166
- 3) 3.24
- 4) 5.66

Correct Answer: 4.166

Candidate Answer: [ NOT ANSWERED ]

QID : 351 - In the following question, some part of the sentence may have errors. Find out which part of the sentence has an error and select the appropriate option. If a sentence is free from error, select 'No Error'.

Roshni always want (1)/ to get the best of facilities (2)/ whether she deserves it or not. (3)/ No Error (4)

Options:

- 1) 1
- 2) 2
- 3) 3
- 4) 4

Correct Answer: 1

Candidate Answer: 2

QID : 352 - In the following question, some part of the sentence may have errors. Find out which part of the sentence has an error and select the appropriate option. If a sentence is free from error, select 'No Error'.

Rohan's mother advised (1)/ him not to drive the (2)/ car lately at night. (3)/ No Error (4)

Options:

- 1) 1
- 2) 2
- 3) 3
- 4) 4

Correct Answer: 3

Candidate Answer: 3

QID : 353 - In the following question, some part of the sentence may have errors. Find out which part of the sentence has an error and select the appropriate option. If a sentence is free from error, select 'No Error'.

I insisted but neither Praveen or his (1)/ friend Bharat is ready (2)/ to work on holiday. (3)/ No Error (4)

Options:

- 1) 1
- 2) 2
- 3) 3
- 4) 4

Correct Answer: 1