

1. दिए गए विकल्पों में से संबंधित शब्द/अक्षर/संख्या को चुनिए  
ककसि : हल :: पें ? : टर

- A. ब्रश B. हैरो  
C. कुल्हाड़ी D. चाकू

Ans. A

2. दिए गए विकल्पों में से संबंधित शब्द/अक्षर/संख्या को चुनिए  
DB: IC:: YE: ?

- A. FJ B. JF  
C. TH D. WL

Ans. B

3. दिए गए विकल्पों में से संबंधित शब्द/अक्षर/संख्या को चुनिए  
AEG: GKM :: MQS : ?

- A. SWY B. SWZ  
C. ZWQ D. SWB

Ans. A

4. दिए गए विकल्पों में से संबंधित शब्द/अक्षर/संख्या को चुनिए  
17: 71 :: 35: ?

- A. 69 B. 56  
C. 60 D. 53

Ans. D

5. दिये गए विकल्पों में से विषम शब्द/अक्षरों/संख्या यमु च नुनिए

- A. जलू B. ओम  
C. िट D. चुम्बकीय क्षेत्र

Ans. D

6. दिये गए विकल्पों में से विषम शब्द/अक्षरों/संख्या यमु च नुनिए

- A. BGF B. FDH  
C. BAE D. CDE

Ans. D

7. दिये गए विकल्पों में से विषम शब्द/अक्षरों/संख्या यमु च नुनिए

- A. 2197 B. 3375  
C. 4099 D. 2744

Ans. C

8. दिये गए विकल्पों में से विषम शब्द/अक्षरों/संख्या यमु च नुनिए

- A. 794 B. 576  
C. 668 D. 992

Ans. B

9. एक अि क्रम दिया गया है जजसमें, से एक पि लुप्त है दिए गए विकल्पों में। से सही विकल्प चुनिए, जो अि क्रम को पूरा करे

पद्म श्री, पद्म भूषण, पद्म विभूषण

- A. Bharat Ratna  
B. Ashok Chakra  
C. Sahitya Akademi Award  
D. Arjuna Award

Ans. A

10. एक अि क्रम दिया गया है जजसमें, से एक पि लुप्त है दिए गए विकल्पों में। से सही विकल्प चुनिए, जो अि क्रम को पूरा करे।

CAE, FDH, IGK, ?

- A. LJN B. OMQ  
C. KLM D. PON

Ans. A

11. एक अि क्रम दिया गया है जजसमें, से एक पि लुप्त है दिए गए विकल्पों में। से सही विकल्प चुनिए, जो अि क्रम को पूरा करे।

AY, CW, EU, ?

- A. GS B. HS  
C. GR D. HR

Ans. A

12. एक अि क्रम दिया गया है जजसमें, से एक पि लुप्त है दिए गए विकल्पों में। से सही विकल्प चुनिए, जो अि क्रम को पूरा करे।

122, 197, 290, ?

- A. 399 B. 400  
C. 401 D. 402

Ans. C

13. निम्निलिखित प्रश्नों में कथि दिए गए हैं, जजकेआगे ि निष्कर्ष I और II निकाले गए हैं आपको िमा है। कक कथि सत्य है चाहे ि सामान्यतः ज्ञात तथ्यों से लभन् प्रतीत होते। हों आपको निणय करि है कक दिए गए निष्कर्षों में सेकौ सा/कौ से निजश्चत रूप से कथिों द्ारा सही निकाला जा सकता है सकते/हैं यदि, | कोई हो

: कथि

1. भारत का सकल घरे लूउत्पि एक उधचत िर सेबढ़ रहा है ले, ककि उसकेम कुाबले रोजगार के सजषि की गनत कही िमी है।
2. हर साल 20 ला से अधिक य ि भारतीय कमचाररयों की संख्या में शालमल होते हैं।

### निष्कर्ष:

- जिसंख्या ि द्वि की िर िकरी स िर से अधिक है ।
- िकरी की मांग की िर बहु तु ऊँची है ले ककि इसकी आपनूत्तम है ।
- A. केिल निष्कर्षIIलाग होता है ।
- B. केिलI औरII िीं लाग होता है ।
- C. ि निष्कर्षI ि हीII लागहोता है ।
- D. केिल निष्कर्षIलाग होता है ।

Ans. B

- पांच लडकयां उत्तर की ओर म हुँ करकेबैठी ह ुई है। ि, शालली और ित के बीच में बैठी ह ुई है। प ज्ञा, ित के एकिम िदहि तरफ है और शालली, िहा के एकिम तरफ बैठी ह ुई है तो । मध्य में कौ बैठा ह ुआ है?

- शालली
- ितू
- रेि
- पूजा

Ans. C

- निम्िललखित शब्ों को शब्िकोश में ओ िले क्रम केअ सार ललें ।
- i. nature ii. nest
- iii. numeric iv. news
- A. iii, i, ii, iv B. iv, ii, iii, i
- C. i, ii, iv, iii D. i, ii, iii, iv

Ans. C

- ककसी विलश्ट कोड भाषा में "TRAIN" को "NIART"लला जाता है इस कोड भाषा में । "SCOOTER" ?को ककस प्रकार लला जाएगा
- A. RETOOCs B. RETOCsO
- C. RETSCOo D. SCOORET

Ans. A

- यदि "+" का अथषाटिा है" , "x" का अथष भाग है" , "÷" का अथषजोड़ है" और "-" का अथषगुणा है तो ,

$$38 \times 2 - 6 + 19 \div 35 = ?$$

- 130
- 140
- 135
- 145

Ans. A

- धचन्हों और संख्याओं में निम्ि में से कौ-सा अंतविनिमय दिए गए समीकरण को सही बिा िगा

$$8 \times 9 + 2 = 74$$

- x और =, 2 और 9
- x और +, 8 और 9
- + और x, 8 और 9
- + और =, 74 और 2

Ans. B

- निम्िललखित प्रश्ि मेंअक्षरों का कौ सा सम ूह िली स्थिों पर क्रमिार िर से ि गई अक्षर क्षि ला को प सू करे?गा

a\_b\_a\_c\_a\_bc

- bccbb
- bcbca
- cabca
- acbc

Ans. A

- एक व्यजतत पजश्म की ओर म हुँ करकेिड़ा है और िह अपि दिशा से िमिातषमे 90 डडग्री घूम जाता है और 10मीटर एक सी में घूम जाता हैअब िह व्यजतत ककस दिशा में िड़ा है ?

- उत्तर
- पजश्म
- िक्षक्षण
- पूष

Ans. D

- एक शब्ि केिल एक संख्या-सम ूह िारा िशाषया गया है जैसा कक विकल्ों में , से ककसी एक में दिया गया है विकल्ों में । दिए गए संख्या सम ूह अक्षरों के ि िगो िारा िशाष गए हैं जैसा कक , िचिेदिए गए ि आव्य हुों में हैं आव्य । हूI के स्तंभ और पंजतत की संख्या 0 से 4 मेंी गई है और आव्य हू II की 5 से 9 मेंी गई है ि । आव्यहुों सेएक अक्षर को पहले उसकी पंजतत और बिा में स्तम्भ संख्या िारा िशाषया जा सकता है।उाहरण के । लए 'P' को 95, 86 आदि िारा िशाषया जा सकता है तथा 'T' को 85, 95, आदि िारा िशाषया जा सकता है इसी । तरह से आपको प्रश्ि में दिए शब्ि 'ALIKE' के लए समूह को पहिािा है ।

	0	1	2	3	4
0	M	K	P	P	P
1	L	M	K	Q	N
2	Y	L	M	K	N
3	E	Y	L	M	K
4	B	B	Y	L	N

	5	6	7	8	9
5	I	A	O	O	J
6	C	I	A	S	J
7	E	D	I	A	H
8	T	E	F	I	A
9	T	S	E	G	H

- A. 56, 10, 55, 31, 97  
 B. 67, 21, 66, 96, 86  
 C. 78, 32, 77, 12, 86  
 D. 89, 43, 76, 01, 30

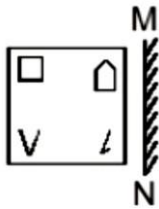
Ans. C

22. एक लड़की, फोटो ग्राफ में एक मदहला की और संकेत करते हुए कहती है "विदित की गिरी, इस", मदहला की सास हैं फोटोग्राफ में "। जो मदहला है यह विदित से कै से संबंधित है ?

- A. माँ B. बहि  
 C. मौसी D. गिरी

Ans. A

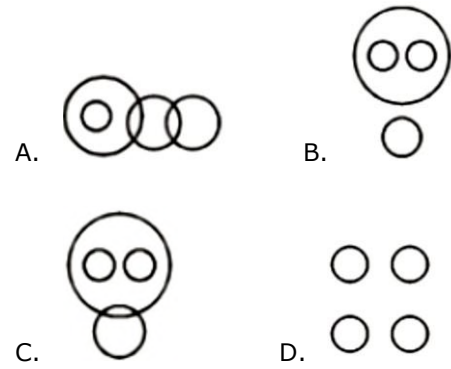
23. यदि एक विषय को MN रेखा दिखाए, तो गिरी गई उत्तर आकृतियों में से कौसी आकृति प्रश्न की सही प्रतबम्ब होगी



- A. B.   
 C. D.

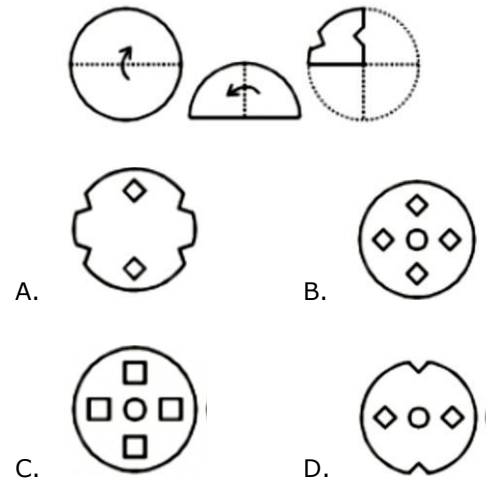
Ans. C

24. यह आरेख चित्र जो गिरी दिए गए चित्रों के बीच संबंध का सही निरूपण करता है ।  
 फुटबॉल, वॉलीबॉल, बाहर गिरी जो गिरी, गिरी कै रम



Ans. B

25. गिरीके प्रश्न आकृतियों में दिए गिरी सुसार कागज को मोड़कर छे गिरी तथा गिरी के बिना यह ककस उत्तर आकृति जैसा दिखाई गिरी ?गा



Ans. A

26. छत्रपति लशिजी टलमसि स्टे शि \_\_\_\_\_ के द्वारा डडजाइ ककया गया था  
 A. फ्रे डररक विललयम स्टींस  
 B. सैदटयोगो तलात्रिा  
 C. फजलुर रहमि गिरी  
 D. फ्रे ई ओटो

Ans. A

27. वर्ष 2015 में भौनतकी का गिरी ल पुरस्कार ककसि जीता था  
 A. दहरोशी अमिो  
 B. तकाकी काजजता  
 C. इसामुआकासकी  
 D. मकोटो कोबायाशी

Ans. B

28. गुरु की पथरी \_\_\_\_\_ से बनी होती है ।

- A. कैल्शियम ऑक्साइड
- B. सोडियम तलोराइड
- C. मैग्नीशियम ऑक्साइड
- D. कैल्शियम बायकार्बोनेट

Ans. A

29. निम्न में से कौन सी बात आर्कटिक क्षेत्रों के बारे में सच नहीं है ?

- A. प्रमुख चरण में लमटोफ़ेस होता है
- B. संहि बंडल मौजूद होती है
- C. बीजाणु टेरोस्पोज़ोते हैं
- D. बबल ढँके होते हैं

Ans. A

30. निम्नलिखित में से कौन एक को छोड़कर अन्य सभी प्राकृतिक दवा उत्सर्जक (अलशु) पाथर है ।

- A. यूरिक एसिड
- B. अमोनिया
- C. कार्बोहाइड्रेट
- D. यूरिया

Ans. C

31. आरएफ़ एक बहलक अणु है इसका पदार्थ रूप क्या है ?

- A. राडोइसोटोप एसिड
- B. राडोइसोटोप एसिड
- C. हाईड्रोजन एसिड
- D. रेस्टोइसोटोप एसिड

Ans. B

32. डाईटलोरोडाईफ़्लोरोमीथिल का सारण क्या है ।

- A. गैलियम
- B. फ़्लोरिन
- C. जर्मेनियम
- D. बोरॉन

Ans. B

33. \_\_\_\_\_ डेटा घटकों को डालें, उकाशित करें, या उन्हें डिलीट करें के रूप में कार्य करता है ।

- A. डेटा डेफ़िनिशंस लैंग्वेज
- B. डाटा मॉडलिंग लैंग्वेज
- C. टिरी लैंग्वेज
- D. ओपरेटिंग सिस्टम

Ans. B

34. रजिमा \_\_\_\_\_ का एक फारसी शब्द है

- A. महाभारत
- B. रामायण
- C. िड
- D. उपनिषद्

Ans. A

35. यदि घर की सफाई की से र्वाओं के लए मांग रिक्र है,  $D = 45000 - 21P$  और आपनूतर्क है  $S = 15000 + 9P$ , संतुलि मात्रा ज्ञात करें ।

- A. 12000 इकाइयां
- B. 6000 इकाइयां
- C. 24000 इकाइयां
- D. 30000 इकाइयां

Ans. C

36. िह माल जजसकी मांग उसकी मूल्य के आनुगत होती है उसे, कहा जाता है

- A. निम्न कोट की र्स्तु
- B. िब्ले र्स्तु
- C. सामान्य र्स्तु
- D. अन्य माल

Ans. B

37. लसमलीपाल टाडगर ररजिषकस राज्य में है ?

- A. महाराष्ट्र
- B. आंध्र प्रदेश
- C. छत्तीसगढ़
- D. ओडिशा

Ans. D

38. निम्नलिखित में से कौन सी ग्रीहास गैस या ऐसी गैस है जो ओजो परत को र्ध, कुसि पह र्धुंवा सकती है ?

- A.  $N_2O$
- B.  $AsH_3$
- C.  $N_2$
- D.  $C_5H_{12}$

Ans. A

39. मोहर पारकर भारत के \_\_\_\_\_ है ।

- A. रेल मंत्री
- B. विरमंत्री
- C. मिमि संसि मंत्री
- D. सुरक्षा मंत्री

Ans. D

40. किलैंड की राजिी तया है ?

- A. ताशकं
- B. हेलसंकी
- C. बिष
- D. िजब्लि

Ans. B

41. मल्ला-मठ्ठा िदियों के तट पर कौ सा शहर जस्थत है?

- A. सरुत B. अहमिाबि  
C. िगफु D. पुणे

Ans. D

42. अजातशत्रु \_\_\_\_\_ का बे | टा था

- A. ब्रह्मि B. बबनसिार  
C. बबबबसर D. चे टका

Ans. C

43. छत्रपनत संभाजी (1680-1688 ई.) ककस िश का ?शासक था

- A. मराठा B. िि  
C. हयंका D. मौयाष

Ans. A

44. कंप्यूटर माउस का आविष्कार ककसि ककया

- A. जी डॉलगोफ B. ब्रे डि ईच  
C. डगलस एंजेलबटष D. फेडररको फैधगि

Ans. C

45. \_\_\_\_\_ के अि िुसार आंतररक ऊजाष अिस्था का एक कायहै और आंतररक ऊजाष में , हई प्रणाली को आपनूतर्षी गई ऊष्मा और प्रणाली द्ारिा ककये गयेकायषके योग के बराबर होती है |

- A. थमोडार्डिलमतस का प्रथम नियम  
B. हुक का नियम  
C. कुलंब का नियम  
D. फराडेका नियम

Ans. A

46. बल आघषूषी दिशा तया होती है ?

- A. प्रयतुत बल की दिशा के लंबित  
B. प्रयतुत बल की दिशा के समि  
C. प्रयतुत बल की दिशा के विपरीत  
D. बत्रज्या के समिांतर

Ans. A

47. भारतीय संीिा का अि छे ि 27 ककसी भी" िमषिशेष को बढ़ाा ि ि केललए करों के भगुति के रूप में स्ितंत्रता" ककस्सेसंबंधित है ?

- A. केंद्र सरकार  
B. राज्य सरकार  
C. राज्य िनत केनि ेलशत लसदंित  
D. भारतीय िगररक के मौललक अधिकार

Ans. D

48. भारतीय संीिा का अि छे ि 31C निलशचत" िनि शक लसदंितों को प्रभी करि के का िूों का संरक्षण" ककस्सेसंबंधित है ?

- A. भारतीय िगररक के मौललक अधिकार  
B. राज्य सरकार  
C. केन्द्र सरकार  
D. राज्य िनत केनि ेलशत लसदंित

Ans. A

49. निम्िललखित में से ककसि एक ििदीसीय अन्तराषष्ट्रीय मैचों में ?िहरा शतक िहीं बिया

- A. िरेंद्र सहाग B. सधचि तें िुलकर  
C. ब्रायि लारा D. रोदहत शमाष

Ans. C

50. जया" का ले"िक कौ है ?

- A. सु िप िगरकर B. ििति पाटाईक  
C. आर. के िारायण D. अरवि ि अडडगा

Ans. B

51. यदि  $7A = 5B = 2C$  है तो ,  $A : B : C$  का पता लगाएं |

- A. 35:14:10 B. 14:10:35  
C. 2:5:7 D. 10:14:35

Ans. D

52. निम्ि संख्याओं में से कौ सी एक अविभाज्य संख्या िहीं है ?

- A. 731 B. 227  
C. 347 D. 461

Ans. A

53. एक कारि में 7 मशिीं को िरिा जाता है | िमें 2 मशिीं A, 2 मशिीं B और बाकी की मशिीं C हैं ि मशिीं के | िम क्रमश 95000 ,रु 75000 रु, और 43000 रु हैं ि | मशिीं की औसत लागत की गणिा करें |

- A. 71000 B. 67000  
C. 75000 D. 65500

Ans. B

54. x का मिा जजसके ललए यह अलभव्यजतत  $7x + 13$  और  $13x - 7$  बराबर हो जाती है िह , \_\_\_\_\_ है |

- A. -10/3 B. 3/10  
C. -3/10 D. 10/3

Ans. D

55. A एक काम 15 दि में और B 9 दि में करता है यदि ि िों। 5 दि साथ लमलकर काम करें , तो काम का ककति भाग बाकी रह जाये ?गा

- A.  $1/6$  B.  $3/7$   
C.  $1/3$  D.  $1/9$

Ans. D

56.  $256x^2y^2$  को  $64x^2$ , द्वारा विभाजित करि पर हमेलमलता है

- A.  $2c^2$  B.  $2b^2$   
C. 4 D.  $4b^2c$

Ans. D

57. रहमि 8 कक.मी./घंटा की गनत से चल कर और रोमा 13 कक.मी./घंटा की गनत स्साईकल चलाते हुए एक ि सूरेकी तरफ आते हैं यदि ि। 36 लमित के बि लमलते है तो श , रुआत में उिके बीच ककति िदूरी थी

- A. 12.6 .कक.मी B. 18.9 .कक.मी  
C. 15.8 .कक.मी D. 9.5 .कक.मी

Ans. A

58. ककसी मूलि पर यदि ि िषों का सारण ब्याज 4800 रु और चक्रि वृद्धि ब्याज 5088 रु हैतो ब्याज िर ककति है , ?

- A. 6 प्रनतशत B. 24 प्रनतशत  
C. 12 प्रनतशत D. 18 प्रनतशत

Ans. C

59. ि छात्र एक परीक्षा में बैठे रिमें। से एक ि सूरेकी त लुि में 24 अंक अधिक हालसल ककये और उसके अंक रि िों के अंक के योग का 65% थे। रि िों ि \_\_\_\_\_ अंक प्राप्त ककये

- A. 78 और 54 B. 85 और 61  
C. 67 और 43 D. 52 और 28

Ans. D

60. यदि  $3x - 4 > 2 - x/3$  और  $3x + 5 > 4x - 5$ ; कफरका मिा तया होगा

- A. 7 B. 10  
C. -11 D. 1

Ans. A

61. जब एक िडडंग गाउि पर 25% की छुट ि जाती हैतो , 32%का लाभ होता है यदि छ। उट 17% हो, तो लाभ \_\_\_\_\_ होगा

- A. 46.08 प्रनतशत B. 49 प्रनतशत  
C. 51.92 प्रनतशत D. 43.16 प्रनतशत

Ans. A

62. यदि  $3x + 2y = 7$  और  $4x - y = 24$ , है तो ,  $x - y =$  \_\_\_\_\_ .

- A. 9 B. 1  
C. -9 D. -1

Ans. A

63. एक बत्रभुज ABC केके न्द्रक के नि ेशक (-1,-2) हैयदि। A और B केनि ेशांक क्रमश (6,-4) और (-2,2) हैं तो लशिर , C केनि ेशांक ज्ञात करें।

- A. (-7,-4) B. (7,4)  
C. (7,-4) D. (-7,4)

Ans. A

64. (4,-2) और (-3, 5)बबंिों से गजुरि िली रे िा केसमान्तर रे िा केढाल को ज्ञात करें ।

- A.  $3/7$  B. 1  
C.  $-3/7$  D. -1

Ans. D

65. 24% की छुट ि पर एक कपडे िी की मशिी की बबक्री कीमत 38000रु है यदि छ , उट 40% ि जाती हैतो उसका बबक्री म , दूल्य तया होगा

- A. 18000 रु B. 30000 रु  
C. 22320 रु D. 31920 रु

Ans. B

66. एक बहभुज Dodecahedronमें ( 20 लशरोबबि हैउसके ककति ककिरें है ?

- A. 30 B. 16  
C. 12 D. 24

Ans. A

67. एक िगका विकणषएक समबाह बुत्रभुज की भुजा केबराबर है यदि उस िगष का क्षेत्रफल।  $15\sqrt{3}$  िगसे मी. है.तो समबाह , बुत्रभुज का क्षेत्रफल ?तया दहया

- A.  $45/\sqrt{2}$  िगसे .मी. B.  $45\sqrt{2}$  िगसे .मी.  
C. 45 िगसे .मी. D.  $45/2$  िगसे .मी.

Ans. D

68. यदि ककसी समकोण त्रिभुज का क्षेत्रफल 3080 वर्ग मी. है. और उसकी नतिरछी ऊँचाई 35 सेमी. है. तो उसके , कुल सतह का क्षेत्रफल ज्ञात करें |

A. 11088 वर्ग मी. B. 1848 वर्ग मी.  
C. 5544 वर्ग मी. D. 2772 वर्ग मी.

Ans. C

69.  $\csc 11\pi/6$  का मातया है ?

A.  $-2/\sqrt{3}$  B.  $\sqrt{2}$   
C.  $-2$  D.  $-\sqrt{2}$

Ans. C

70.  $-\cos(A+B) + \cos(A-B)$  ककसकेराबर है ?

A.  $2\cos A \cos B$  B.  $2\sin A \sin B$   
C.  $2\sin A \cos B$  D.  $2\cos A \sin B$

Ans. A

71.  $-1/(\tan A + \cot A)$  ककसकेराबर है ?

A.  $(\csc A + \sin A)(\sec A - \cos A)$   
B.  $\sqrt{[(\csc A - \sin A)(\sec A - \cos A)]}$   
C.  $\sqrt{[(\csc A + \sin A)(\sec A - \cos A)]}$   
D.  $(\csc A - \sin A)(\sec A - \cos A)$

Ans. A

72. निचेदिये गए डेटा ताललका के आार पर निम्निलखित प्रश्न का उत्तर ि

	Weight (kg) वजन (किलोग्राम)	Height in meter ऊँचाई (मीटर)
Aruna / अरुणा	79	1.61
Arushi / अरुशी	52	1.68
Arya / आर्य	52	1.5
Asha / आशा	53	1.63

जि और ऊँचाई का अिष्ठात ककसका सबसेकम है?

A. अरुणा B. अरुष  
C. आर्य D. आशा

Ans. B

73. निचेदिये गए डेटा ताललका के आार पर निम्निलखित प्रश्न का उत्तर ि

Year िष	Company's % Profit कं पी का लाभ %
2011	25
2012	5
2013	10
2014	15
2015	20

यदि एक कं पी का व्यय उस िष में 575 करोड़ रूपए था जजसमें उसका लाभ % सबसे , कम था तो कं पी का राजस्व ककति था

A. 632.5 B. 603.75  
C. 661.25 D. 575

Ans. B

74. निम्न ताललका एक समाज के प्रत्येक घर में बच्चों की संख्या िशाषती है |

Number of Children बच्चों की संख्या	Number of Houses घरों की संख्या
0	4
1	13
2	17
3	5

प्रत्येक घर में बच्चों की औसत संख्या तया है ?

A. 2.09 B. 1.84  
C. 1.59 D. 1.34

Ans. C

75. निचेदिये गए डेटा ताललका के आार पर निम्निलखित प्रश्न का उत्तर ि

Partners भागीर	Present % share ितभा % दहस्सा
Anand / आंि	10
Basu / बासु	5
Chinmay / धचन्मय	30
Dhiraj / िरज	5
Ejaz / एजाज़	50

यदि एक कं पी ि अपि पां च भागीरों के बीच छः ला शेयर जारी ककए हैं और अगर धचन्मय िरज को अपि शेयरों में से 15,000 बेचि का प्रस्ता करता है तो िरज के , पास ककति शेयर होंगे?

A. 45000 शेयर B. 30000 शेयर  
C. 60000 शेयर D. 15000 शेयर

Ans. A

76. In the following question, the sentence given with blank to be filled in with an appropriate word. Select the correct alternative out of the four and indicate it by selecting the appropriate option.

The lawyer tried to \_\_\_\_\_ his client to accept the generous settlement offer.

A. draw B. seduce  
C. incite D. persuade

Ans. D

77. Improve the bracketed part of the sentence.

The stranded pilgrims (had waited) in the bitter cold for more than two hours now.

A. has been waiting  
B. have been waiting  
C. have waited  
D. no improvement

Ans. B



78. In the following question, some part of the sentence may have errors. Find out which part of the sentence has an error and select the appropriate option. If a sentence is free from error, select 'No Error'.

I am coming directly(A)/to my office(B)/from the station.(C)/No error(D)

- A. B                                      B. A  
C. C                                      D. D

Ans. A

79. Improve the bracketed part of the sentence.

The exhausted travellers seemed relieved when the train finally (came into) the station.

- A. pulled in                              B. pulled into  
C. pulled onto                          D. no improvement

Ans. A

80. Rearrange the parts of the sentence in correct order.

It is for the government,  
P-especially one with such a  
Q-significant majority, to have the  
R-intelligence and leadership to think long term

- A. QRP                                      B. PQR  
C. RPQ                                      D. QPR

Ans. B

81. In the following question, out of the four alternatives, select the alternative which best expresses the meaning of the idiom/phrase.

to drink like a fish Options:

- A. a person who spends a lot  
B. a person who keeps cheating for a very long time without getting noticed  
C. a person who needs to relive himself very frequently  
D. to drink excessive amounts of alcohol

Ans. D

82. Rearrange the parts of the sentence in correct order.

There is a deeper  
P-fissure here that goes  
Q-from western theory  
R-beyond explanations

- A. PRQ                                      B. PQR  
C. QPR                                      D. RPQ

Ans. A

83. Select the synonym of  
to preside

- A. to acquiesce                          B. to concur  
C. to officiate                              D. to accord

Ans. C

84. Select the synonym of  
dabble

- A. solemn                                  B. austere  
C. meditative                              D. dally

Ans. D

85. In the following question, a sentence has been given in Active/Passive voice. Out of four alternatives suggested, select the one, which best expresses the same sentence in Passive/Active voice.

The owners remodelled the car to help it sell.

- A. The car was remodelled by the owners to help it sell.  
B. The car is being remodelled by the owners to help it sell.  
C. The car was remodelled by the owners to help it being sold.  
D. The car is being remodelled by the owners to help it being sold.

Ans. A

86. Select the word with the correct spelling.

- A. thresonical                              B. numeracy  
C. nepotesm                                  D. tolerate

Ans. B

87. In the following question, out of the four alternatives, select the alternative which is the best substitute of the phrase.

A person who is lazy and has low standards of cleanliness.

- A. hog    B. slob  
C. swine                                      D. brute

Ans. B

88. Select the antonym of  
therapeutic

- A. ameliorative                              B. analeptic  
C. salubrious                                  D. inimical

Ans. D

89. Select the antonym of  
to perpetuate

- A. to eternize                                  B. to canonize  
C. to cease                                      D. to bolster

Ans. C

90. In the following question, some part of the sentence may have errors. Find out which part of the sentence has an error and select the appropriate option. If a sentence is free from error, select 'No Error'.

The task of(A)/writing a autobiography(B)/is a difficult one.(C)/No error(D)

- A. A    B. B  
C. C    D. D

Ans. B



91. In the following question, out of the four alternatives, select the alternative which best expresses the meaning of the idiom/phrase.

down to the wire

- A. removing the bondage that is keeping one down
- B. the last second before the bomb explodes
- C. to denote a situation whose outcome is not decided until the very last minute
- D. finishing all of one's resources to the last penny

Ans. C

92. In the following question, a sentence has been given in Direct/Indirect speech. Out of the four alternatives suggested, select the one, which best express the same sentence in Indirect/Direct speech.

Manoj said, "I must go now."

- A. Manoj said that he must go then.
- B. Manoj said that he must go than.
- C. Manoj said he has to go then.
- D. Manoj said that he should be going than.

Ans. A

93. In the following question, out of the four alternatives, select the alternative which is the best substitute of the phrase.

To exclude from a society or group.

- A. to ostracise
- B. to deport
- C. to boycott
- D. to snub

Ans. A

94. Select the word with the correct spelling.

- A. glucose
- B. hermetec
- C. wigling
- D. derogate

Ans. A

95. In the following question, sentence given with blank is to be filled in with an appropriate word. Select the correct alternative out of the four and indicate it by selecting the appropriate option.

If immigrants don't learn to speak the native languages of their new countries, they won't be able to \_\_\_\_\_ themselves into society.

- A. conjoin
- B. interface
- C. integrate
- D. reconcile

Ans. C

96. In the following passage, some of the words have been left out. Read the passage carefully and select the correct answer for the given blank out of the four alternatives.

\_\_\_\_\_ the Troubled Asset Relief Program (TARP), the government had purchased assets of struggling banks with

a view \_\_\_\_\_ ensuring that they did not collapse taking \_\_\_\_\_ them the rest of the financial system. These assets \_\_\_\_\_ later at a profit by the government! The U.S. government had acted smartly, while in the Indian case the banks now find themselves \_\_\_\_\_ with loans made by them to an individual with negative net worth.

the Troubled Asset Relief Program (TARP)

- A. Below
- B. Down
- C. Lower
- D. Under

Ans. D

97. In the following passage, some of the words have been left out. Read the passage carefully and select the correct answer for the given blank out of the four alternatives.

\_\_\_\_\_ the Troubled Asset Relief Program (TARP), the government had purchased assets of struggling banks with a view \_\_\_\_\_ ensuring that they did not collapse taking \_\_\_\_\_ them the rest of the financial system. These assets \_\_\_\_\_ later at a profit by the government! The U.S. government had acted smartly, while in the Indian case the banks now find themselves \_\_\_\_\_ with loans made by them to an individual with negative net worth.

(TARP), the government had purchased assets of struggling banks with a view

- A. to
- B. of
- C. for
- D. so

Ans. A

98. In the following passage, some of the words have been left out. Read the passage carefully and select the correct answer for the given blank out of the four alternatives.

\_\_\_\_\_ the Troubled Asset Relief Program (TARP), the government had purchased assets of struggling banks with a view \_\_\_\_\_ ensuring that they did not collapse taking \_\_\_\_\_ them the rest of the financial system. These assets \_\_\_\_\_ later at a profit by the government! The U.S. government had acted smartly, while in the Indian case the banks now find themselves \_\_\_\_\_ with loans made by them to an individual with negative net worth.

they did not collapse taking \_\_\_\_\_ them the rest of the financial system.

- A. from
- B. all
- C. along with
- D. also with

Ans. C

99. In the following passage, some of the words have been left out. Read the passage carefully and select the correct answer for the given blank out of the four alternatives.

---

\_\_\_\_\_ the Troubled Asset Relief Program (TARP), the government had purchased assets of struggling banks with a view \_\_\_\_\_ ensuring that they did not collapse taking \_\_\_\_\_ them the rest of the financial system. These assets \_\_\_\_\_ later at a profit by the government! The U.S. government had acted smartly, while in the Indian case the banks now find themselves \_\_\_\_\_ with loans made by them to an individual with negative net worth. These assets later at a profit by the government!

- A. are disposed of
- B. were disposed of
- C. are disposed off
- D. had been disposed off

Ans. B

100. In the following passage, some of the words have been left out. Read the passage carefully and select the correct answer for the given blank out of the four alternatives.

\_\_\_\_\_ the Troubled Asset Relief Program (TARP), the government had purchased assets of struggling banks with a view \_\_\_\_\_ ensuring that they did not collapse taking \_\_\_\_\_ them the rest of the financial system. These assets \_\_\_\_\_ later at a profit by the government! The U.S. government had acted smartly, while in the Indian case the banks now find themselves \_\_\_\_\_ with loans made by them to an individual with negative net worth.

find themselves with loans made by them to an individual with negative net worth.

- A. saddled
- B. baffled
- C. puzzled
- D. caught

Ans. A